


ВПР	ОГЭ	ЕГЭ
<p>Задание №1</p> <p><u>Формулировка:</u> как ты понимаешь значение слова «столица» из 9-го предложения? Запиши своё объяснение.</p>	<p>Задание №1.1</p> <p><u>Формулировка:</u> как вы понимаете значение слова «человечность»? Напишите сочинение-рассуждение на тему: «Что такое человечность».</p>	<p>Задание №1.2</p> <p><u>Формулировка:</u> прочитайте фрагмент словарной статьи, в которой приводятся значение слова «условие». Определите значение, в котором это слово употреблено в третьем (3) предложении текста. Выпишите цифру, соответствующую этому значению в приведённом фрагменте словарной статьи.</p>
<p>Задание №2</p> <p><u>Формулировка:</u> замени слово «известный» (из 3 предложения) близким по значению словом. Запиши это слово.</p>	<p>Задание № 2.1</p> <p><u>Формулировка:</u> замените разговорное слово «пошушукались» в предложении 12 стилистически нейтральным синонимом. Напишите этот синоним.</p>	<p>Задание №2.2</p> <p><u>Формулировка:</u> из предложений 33-34 выпишите слово со значением: «Проникнутый приподнятостью, страшным желанием придать значимость чему-либо, значимостью не обладающему».</p>

ВПР	ОГЭ	ЕГЭ
<p>Задание №3</p> <p><u>Формулировка:</u> что хотел сказать автор читателю? Определи и запиши основную мысль.</p>	<p>Задание №3.1</p> <p><u>Формулировка:</u> напишите сочинение-рассуждение. Объясните, как Вы понимаете смысл финала текста. При-ве-ди-те в со-чи-не-нии два ар-гу-мен-та из про-чи-тан-но-го тек-ста, под-твер-жда-ю-щие Ваши рас-суж-де-ния.</p>	<p>Задание №3.2</p> <p><u>Формулировка:</u> напишите сочинение по прочитанному тексту. Сформулируйте одну их проблем, поставленных автором текста. Прокомментируйте поставленную проблему. Сфор-му-ли-руй-те по-зи-цию ав-то-ра. На-пи-ши-те, со-глас-ны или не со-глас-ны Вы с точ-кой зре-ния ав-то-ра. Свой ответ ар-гу-мен-ти-руй-те.</p>

ВПР

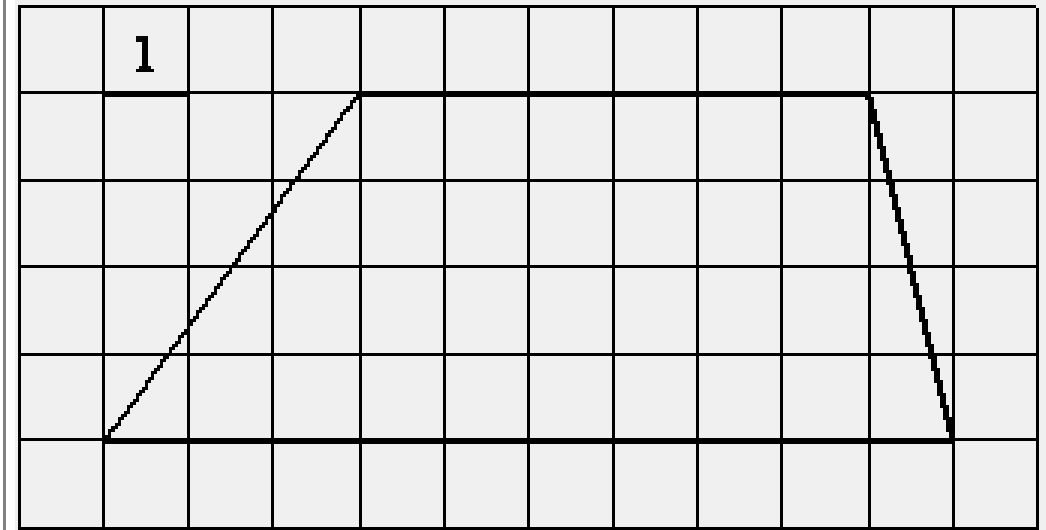


1) Найди площадь этого прямоугольника.

Задание №1

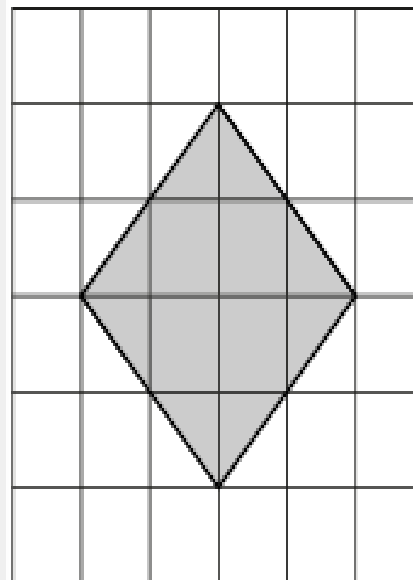
ОГЭ

Найдите площадь трапеции, изображённой на рисунке.



ЕГЭ

План местности разбит на клетки. Каждая клетка обозначает квадрат $1\text{ м} \times 1\text{ м}$. Найдите площадь участка, выделенного на плане. Ответ дайте в квадратных метрах.



Задание №2

ВПР	Даша заплатила за 6 одинаковых тетрадей 120 рублей. Сколько тетрадей она могла бы купить на 80руб.?
ОГЭ	В начале месяца тетрадь стоила 18 руб-лей, а в конце месяца тетрадь подорожала на 15 процентов. Сколько тетрадей можно купить на 150 рублей?
ЕГЭ	Летом килограмм клубники стоит 75 рублей. Маша купила 1 кг 200 г клубники. Сколько рублей сдачи она должна получить с 100 рублей?

Задание №3

ВПР	Велосипедист едет со скоростью 18 км/ч. Какое расстояние он проедет за 6 часов?
ОГЭ	Моторная лодка прошла против течения реки 208 км и вернулась в пункт отправления, затратив на обратный путь на 5 часов меньше, чем на путь против течения. Найдите скорость лодки в неподвижной воде, если скорость течения реки равна 5 км/ч?
ЕГЭ	Рас-сто-я-ние между го-ро-да-ми А и В равно 440 км. Из го-ро-да А в город В со ско-ро-стью 50 км/ч вы-ехал пер-вый ав-то-мо-биль, а через час после этого нав-стре-чу ему из го-ро-да В вы-ехал со ско-ро-стью 80 км/ч вто-рой ав-то-мо-биль. На каком рас-сто-я-нии от го-ро-да А ав-то-мо-би-ли встре-тят-ся? Ответ дайте в ки-ло-мет-рах.

Задание №4

ВПР	Найдите значение выражения $(800 : 16 - 12) \cdot 5$
ОГЭ	Найдите значение выражения $\left(2\frac{1}{16} - 1\frac{1}{14}\right) \cdot 28$
ЕГЭ	Найдите значение выражения $2,42 : \left(\frac{11}{3} + 1,58\right)$

Задание №5 ВПР

10

Миша написал на футболке своё имя (см. рис. 1). Затем он подошел к зеркалу. Нарисуй, как будет выглядеть отражение его имени в зеркале (рис. 2).



Рис. 1




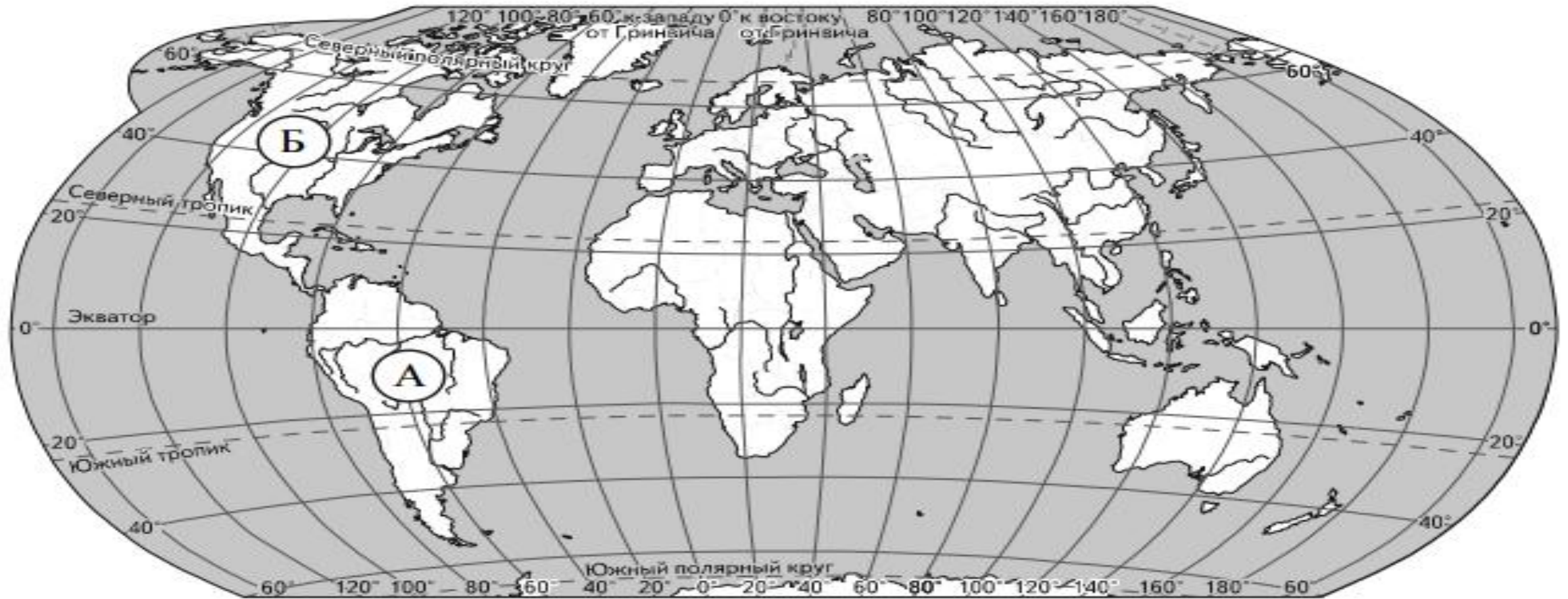
Рис. 2

11

В «Детском мире» продавали двухколёсные и трёхколёсные велосипеды. Максим пересчитал все рули и все колёса. Получилось 12 рулей и 27 колёс. Сколько трёхколёсных велосипедов продавали в «Детском мире»?

Задание 1. ВПР.

Внимательно рассмотри карту. На ней буквами А и Б отмечены два материка.



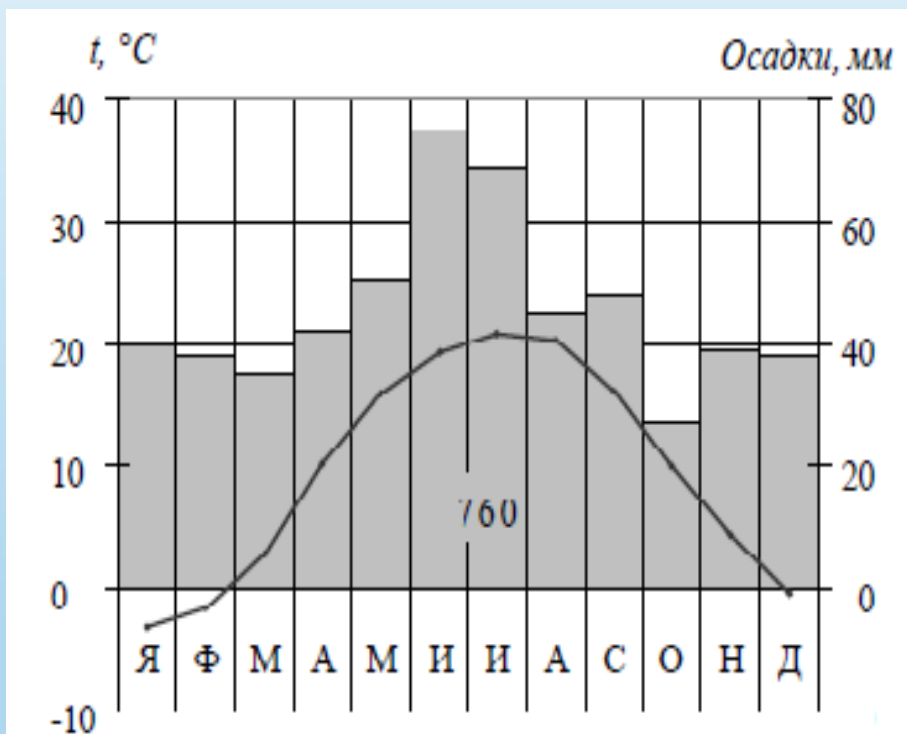
3.1. Запиши название каждого материка в отведённое для этого поле.

Название материка (А):

Название материка (Б):

Задание 2. ОГЭ.

Проанализируйте климатограмму и определите, какой буквой на карте обозначен пункт, характеристики климата которого отражены в климатограмме.



1) А

2) В

3) С

4) D

Ответ:

Задание 3. ЕГЭ.

Установите соответствие между заливом и его обозначением на карте мира: к каждому элементу первого столбца подберите соответствующий элемент из второго столбца.



ЗАЛИВ

- А) Гвинейский
- Б) Бенгальский
- В) Аляска

ОБОЗНАЧЕНИЕ НА КАРТЕ

- 1) 1
- 2) 2
- 3) 3
- 4) 4

Запишите в таблицу выбранные цифры под соответствующими буквами.

Ответ:

А	Б	В